

TEKİL VE ÇOĞUL ADLAR

♣ Palyaço, gösterisini çoğul adların olduğu toplarla yapacak. Çoğul adların yazılı olduğu topları boyayarak palyaçoya yardım ediniz.



Aşağıdaki cümlelerde renkli yazılmış tekil adları çoğul yaparak cümleleri yeniden yazınız.

Baloncu **balonu** gökyüzüne bıraktı.

Kalemi yok, resim yapamıyor.

Kuzum meleyerek yanıma geldi.

Sevda, annesine **çiçek** almış.

Çocuk eve doğru koşmaya başladı.

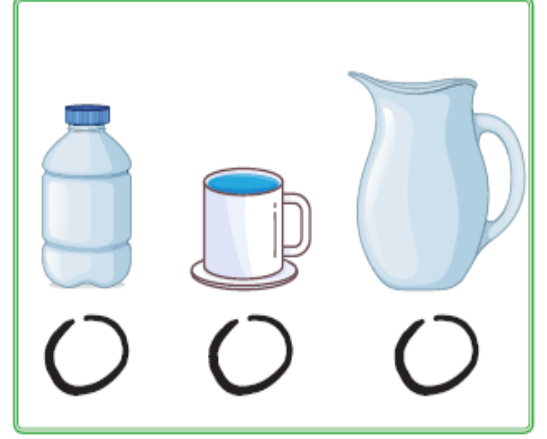

Akşamdan **ödevimi** yapmıştım.

Bilyesi kaybolduğu için çok üzüldü.

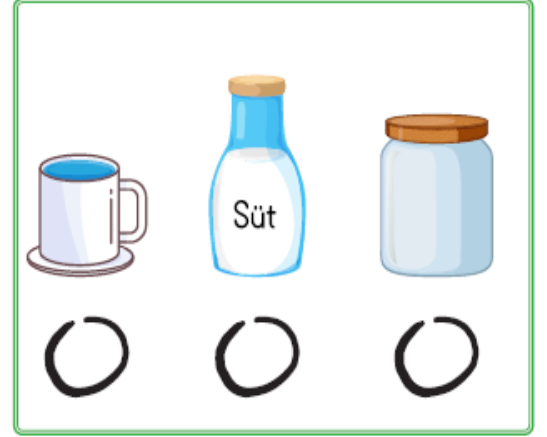
Masadaki **mum** çok güzeldi.

SIVI ÖLÇÜLERİ

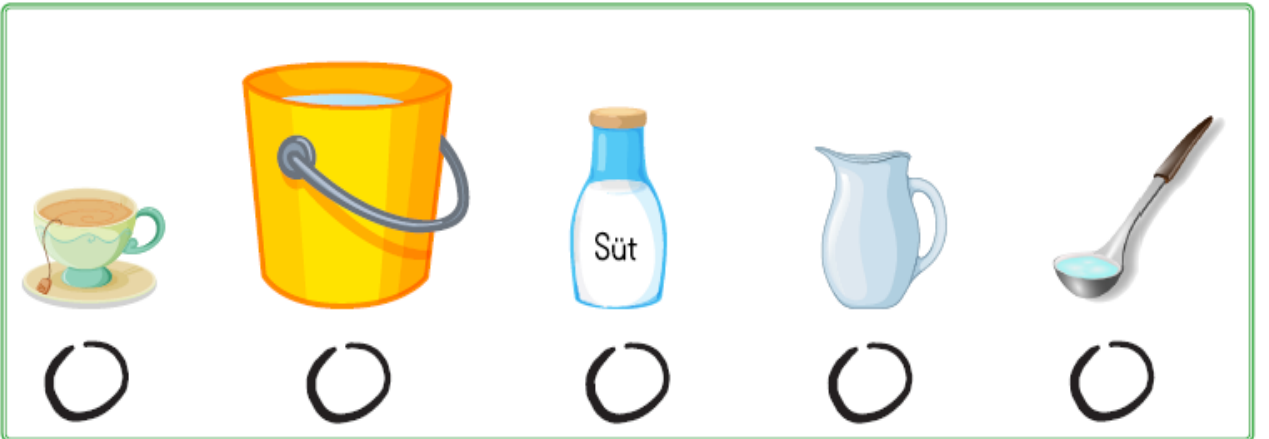
Aşağıdaki ölçme kaplarından hangisi daha çok sıvı alır? Altındaki kutucuğa ✓ işareti ile işaretleyin.



Aşağıdaki ölçme kaplarından hangisi daha az sıvı alır? Altındaki kutucuğa ✓ işareti ile işaretleyin.



Aşağıda verilen nesnelere aldıkları sıvı miktarlarına göre en az sıvı alandan en çok sıvı alana doğru sıra numaraları ile sıralayınız.



SIVI ÖLÇÜLERİ

Soruları okuyalım. Doğru cevabın bulunduğu kutucuğu işaretleyelim.



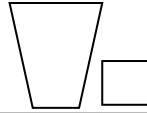
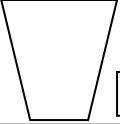
1. Hangi kap **daha çok** kolonya alır?



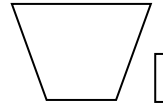
2. Hangi tencere **daha az** süt alır?



3. Hangi bardak **daha çok** su alır?



4. Bir havuzu hangisi ile doldurmamız **daha uzun** sürer?



8. Aşağıdaki cümleleri **daha az** veya **daha çok** kelimelerin den uygun olanıyla tamamlayınız.



5. Pamuk günde 2 tabak süt içiyor. Her tabak 2 bardak süt aldığına göre, Pamuk bir haftada kaç bardak süt içmiştir?

A) 12

B) 21

C) 28

6. Hangi cümledeki ifade (söylenen) **yanlıştır**?

A) Çay bardağı, su bardağından daha az sıvı alır.

B) Eşit miktarda su dökülen bütün kaplardaki su seviyesi aynıdır.

C) 7 çay kaşığı çay, 7 çorba kaşığı çorban daha azdır.

7. Fatma teyzem bir sürahi limonata hazırladı. Bu limonata hangi bardakta **daha çok** kişiye ikram edilebilir.



Kova, sürahiden su alır.

Sürahi, kovadan su alır.

Sağdaki bardak, soldakinden Çay alır.

Soldaki bardak, sağdakinden çay alır.

Aferin sana!
Hepsini bitirdin.