

## SESTEŞ (EŞ SESLİ) KELİMELELER



Aşağıdaki cümlelerde yer alan eş sesli kelimeleri bularak kutucuklara yazalım.

★ Erkenden yatağına yat.

★ Duru'dan iki yaş büyüğüm.

★ Bağdan üzüm mü topladın?

★ Dayım tam üç dil biliyor.

★ Trafik polisi bize "geç" dedi.

★ Haydi onu da kır da görelim.



Aşağıdaki cümlelerde geçen eş sesli kelimeler ile aynı anlamlarıyla kullanılan cümleleri işaretleyelim.

Pembe bir etek **aldım**.

**Al** bayrağım çok güzel.

Babam çoktan biletini **almış**.

Bugün **yedi** tane test çözdüm.

Kedim Tekir mamasını **yedi**.

**Yedi** üç daha on ediyor.

Bugün ne çok yağmur **yağdı**.

Kar **yağ**ınca çok mutlu oluyorum.

Marketten bir paket **yağ** al.

İki bardak süt **içmelisin**.

Çekmecenin **içine** iyice baktın mı?

Su **içince** kendime geldim.

Ağacın **dal**ına bir kuş kondu.

Sincap daldan **dala** atladı.


Amcam denizde dibe **daldı**.

**Bin** tane çikolata yiyebilir misin?

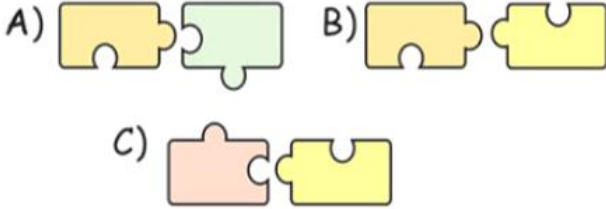
Sana **bin** kez söyledim.

Ata **binmek** çok eğlenceliydi.

1.



Yapbozdaki hangi parçalarda yazılı kelimeler eş seslidir?



2.



Anlattığın adam **kır** saçlıydı.

Hangi cümlede "kır" kelimesi Gökhan'ın kullandığı anlamda kullanmıştır?

- A) Kardeşim bardağı kırdı.  
B) Kırlarda gezip oynadık.  
C) Kır atın yanına gitti.

3. 1.

Bardak ağzına kadar dolu.

2.

Gece buraya dolu yağdı.

3.

Tabağım dolu olduğu için taşıyamadım.

Hangi cümlede "dolu" kelimesi diğerlerinden farklı bir anlamda kullanılmıştır?

- A) 1. B) 2. C) 3.

4.



Panoda yazılı kelimelerden kaç tanesi eş seslidir?

- A) 3 B) 4 C) 5

5.

Kuşlara yem at.



Hangi sembole gösterilen kelime eş seslidir?

- A) B) C)

6.

..... içmeyi severim.

Birlikte ..... dan geçtik.

Cümlelerde sembolü ile belirtilen yere hangi eş sesli kelime yazılabilir?

- A) çay B) ayran C) yaş

7. Aşağıdaki cümlelerde altı çizili kelimelerden hangisi eş seslidir?


- A) Ece erkenden uyudu.  
B) Bana mutlaka mektup yaz.  
C) Hayal kurmak güzeldir.

## Bölme İşlemi Problemleri

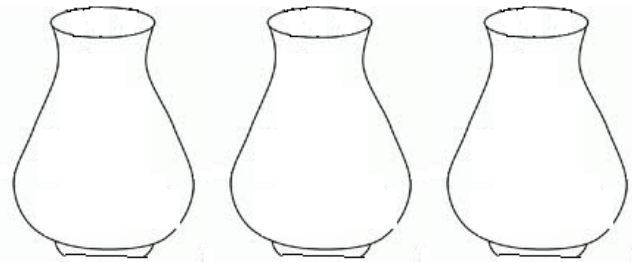

1. Aylın, arkadaşları Ahmet ve Yeşim ile 18 cevizi eşit olarak paylaşıyor.. Her birine kaç ceviz düşer? (Önce işlemi yapıp sonra şekil üzerinde gösteriniz.)




2. 20 oyuncak arabayı 5 çocuk eşit olarak paylaşırsa her çocuğun kaç arabası olur? (Önce işlemi yapıp sonra şekil üzerinde gösteriniz.)



3. 12 gül 3 vazoya eşit olarak yerleştirilecek. Her vazoya kaç gül düşer? (Önce işlemi yapıp sonra şekil üzerinde gösteriniz.)




4. Kolideki 23 yumurtanın 8 tanesi kırıldı. Kalan yumurtaları buzdolabında 3 rafa eşit olarak yerleştirmem gerekiyor. Her rafa kaç yumurta düşer?




5. Torbasında 13 bilye olan Hakan'a babası da 3 bilye verdi. Hakan bilyeleri kardeşiyle eşit paylaştı. Her birinin kaç bilyesi olmuştur? (Problemi şekil çizerek çözmeye çalışınız.)

6. 19 kitabın 5 tanesi ders kitabı, gerisi hikaye kitabıdır. Hikaye kitaplarını 7 rafa eşit olarak yerleştirirsek her rafta kaç kitap olur?



7. Ağaçtaki 28 elmayı 4 kişi eşit miktarda topladı. Her biri kaç elma toplamıştır?



8. Her gün 2 ekmek alıyoruz. 14 ekmeği kaç günde alırız?

