

EŞ SESLİ KELİMELELER



Bir bardak **çay** içtim.



Çay kenarında piknik yaptık.

Çay kelimesi her iki cümlede de aynı yazılmasına rağmen anlam olarak farklıdır.

Birinci cümledeki **çay** bir içecektir.

İkinci cümledeki **çay** ise küçük akarsulara verilen isimdir.

Yazılış ve söylenişleri aynı, anlamları farklı olan sözcüklere **eş sesli** (**sesteş**)sözcükler denir.



At çok hızlı koşuyordu.



Uğur topu ona **at**

At kelimesi her iki cümlede de aynı yazılmasına rağmen anlam olarak farklıdır.

Birinci cümledeki **at** bir hayvan adıdır.

İkinci cümledeki **at** ise topun bir yerden başka yere gitmesidir.

Aşağıdaki **sesteş** (eş sesli) kelimeleri verilen anlamlarda cümlede kullanalım. Örneğe göre yapalım.

Ocak ----→1 -Bir ay adı anlamında :

2-Yemek pişirilen yer anlamında :.....

Yüz →1 -Denizde yüzme işi anlamında:

2-İnsanın surati anlamında :

At ----→1 -Binek bir hayvan anlamında:

→2-Atma işi anlamında:

Aç ----→1 -Açmak işi anlamında:

→2-Acıkmiş olan anlamında:

Kaz----→1 - bir hayvan anlamında:

→2-Kazma işi anlamında:

Çay ----→1 -Bir bitki anlamında:

→2-Küçük akarsu anlamında:

Hangi balonda eş sesli(sesteş) kelime varsa o balonu boyayalım.

yol

çok

at

gül

kız

yağ

dal

çal

geç

sıra

ben

okul

al

dil

çay

zor

bin

dolu

kar

gel


yaş

rüya

ocak

ben

bağ



kaz

açık

anı

diz

ay


yedi

BÖLME İŞLEMİ PROBLEMLERİ

Aşağıdaki problemleri çözünüz




Melis yukarıdaki karpuzları 3 kasaya paylaştıracaktır. Her kasaya kaç karpuz düşer?



Ahmet yukarıdaki elmaları 4 sepete koyduğuna göre her sepette kaç elma vardır?



Semiha yukarıdaki elmaların 7 fazlasını 3 kişiye pay edecektir. Her kişiye kaç elma düşer?



Ömer
Ezgi
Ömer ile Ezgi'nin topladığı elmaları 3 kasaya koyacağımıza göre her kasaya kaç elma düşer?



Atakan topladığı elmaları 4 ağaçtan eşit topladığına göre Atakan her ağaçtan kaç elma toplamıştır?



Salih yukarıdaki muzları 6 maymuna paylaştırdığına göre her maymuna kaç muz vermiştir?

Aşağıdaki problemleri çözünüz



Mehmet yukarıdaki kirazları 4 tabağa koyduğuna göre her tabakta kaç kiraz olur?



Aslı yukarıdaki elmaları 3 katını 4 sepete koyduğuna göre her sepette kaç elma vardır?



Banu yukarıdaki cevizleri 2 sincaba pay ettiğine göre her sincaba kaç ceviz vermiştir?



Mert arabalarını 3 garaja koymak istiyor. Her garaja kaç araba koyar?



Arda 18 litre suyu yukarıdaki kovalara eşit paylaşmıştır. Her kovada kaç litre su vardır?



Sadık yukarıdaki şekerleri 6 çocuğa paylaştığına göre her çocuğa kaç şeker vermiştir?



Ali kalemlerini 2 kalemliğe koyduğuna göre her kalemliğe kaç kalem koymuş olur?



Özlem yukarıdaki şekerleri 5 bardağa atmıştır. Her bardakta kaç şeker olur?