

## EŞ SESLİ KELİMELELER

Eş sesli kelimeyi yazalım.

Bir yağış türü.

DOLU

İçi boş olmayan.

Bir çiçek türü.

.....

Gülümsemek.

Üzüm yetiştirilen yer.

.....

Ayakkabı bağlamaya yarayan ip.

Bir renk.

.....

Toprak parçası.

Yabancı kişi.

.....

Kollarımızın ucundaki organımız.

Tükettiğimiz bir besin.

.....

Tarlayı işlemek.

Bir kız ismi.

.....

Yılın dokuzuncu ayı.

Aşağıdaki sözcüklerden sestesh ( eş sesli ) olanları kırmızıya boyayınız.

yağ

tuz

dil

reçel

ben

çiçek

gül

tatil

diz

at

dolu

bul

zeytin

bel

zil

Aşağıdaki cümlelerin hangilerinde eşsesli (sestesh) kelimeler kullanılmıştır? Eşsesli kelimelerin altını çiziniz.

- 1- Yaz tatilinde köye gideceğim.
- 2- Ödevlerimi yaptım ama çok yorulduğum.
- 3- Halam bahçedeki çileklerden reçel yaptı.
- 4- Dedem yüz lira verdi.
- 5- Yıl sonunda sınıfça kır gezisine çıkacağız.
- 6- Dün gece elektrikler kesildi.
- 7- Teyzem bahçenin her yerine gül ekmiş.
- 8- Koşumuz televizyonumuzu tamir etti.
- 9- At eşekten büyüktür.
- 10- Misafirlere kapıyı kardeşim açtı.

Aşağıdaki boşluklara okunuşları aynı olan sol ve sağ yandaki tanımlara uygun sözcükler bulun ve yazın. (Alttaki kutudan yardım alabilirsiniz)

Başı kaplayan kıl

SAC

Bir şeyi ortalığa dağıtmak

Toprak parçası

Siyah

Islak, nemli

Doğuştan beri geçen zaman

Bir sayı

Surat, çehre

Bir ay adı

Yemek pişirmeye yarar

Bal yapan böcek

Katkısız, saf

Biriyle eğlenme

Belli sayıda askeri birlik

Bir çiçek

"Ağla" sözcüğünün karşıtı

İçi doldurulmuş olan

Bir yağış biçimi

Futbol oynamaya yarayan araç

Büyük ateşli silah

Tat alma organı

Lisan (konuşulan)

Kırmızı

Almak eylemi

Beyaz

Akmak eylemi

Bir besin maddesi

Tohumu toprağa saçmak

yaş

dolu

dil

kara

ak

ocak

arı

yüz

top

al

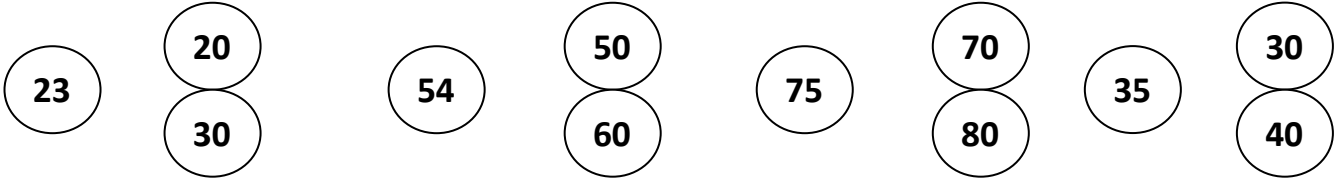
gül

alay

ekmek

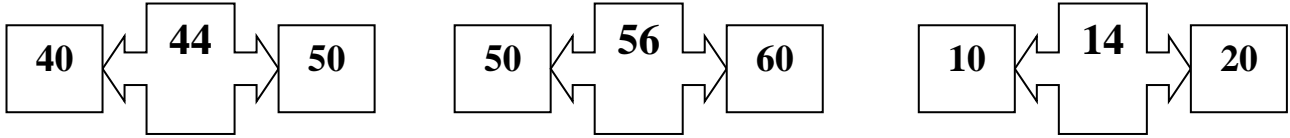
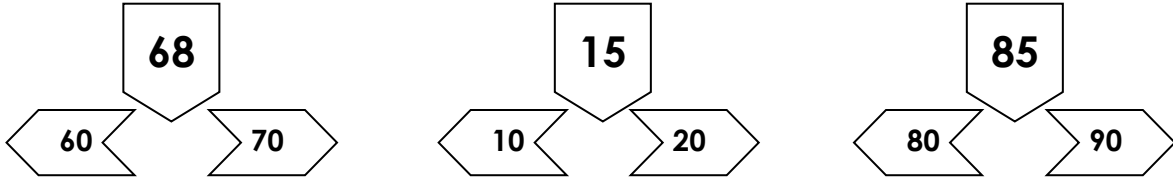

## EN YAKIN ONLUĞA YUVARLAMA

➤ Aşağıdaki doğal sayıların hangi onluğa daha yakın olduğu eşleştirerek gösteriniz.

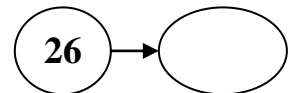
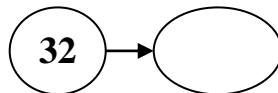
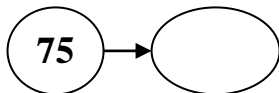
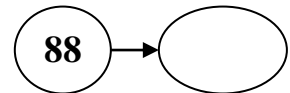
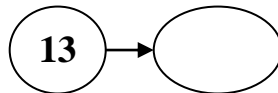
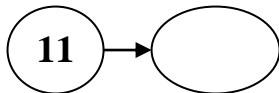
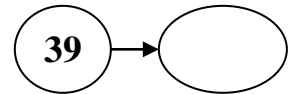
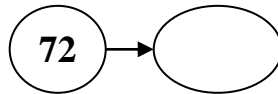
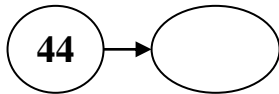
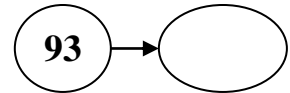
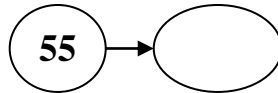
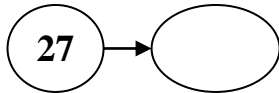
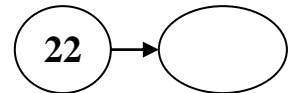
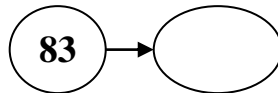
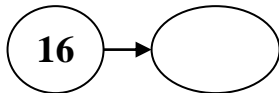
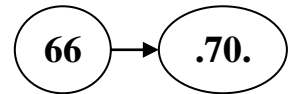
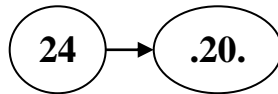
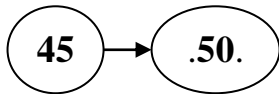


Aşağıdaki doğal sayıların hangi onluğa yakın olduğunu bulunuz ve aynı renge boyayınız.

17	28	15	39	77	45
10   20	20   30	10   20	30   40	70   80	40   50



Aşağıda verilen doğal sayıların hangi onluğa yakın olduklarını örneğe uygun olarak yazınız.



## ONLUĞA YUVARLAMA İLE İLGİLİ TEST

1) 4 onluk ve 3 birlikten oluşan sayı hangi onluğa yuvarlanır?

- A) 30      B) 40      C) 50

2) 5 birlik ve 6 onluktan oluşan sayı hangi onluğa yuvarlanır?

- A) 50      B) 60      C) 70

3) Onlar basamağında 8 ve birler basamağında 2 olan sayı hangi onluğa yuvarlanır?

- A) 80      B) 70      C) 90

4) Aşağıdakilerden hangisi 90'a yuvarlanamaz?

- A) 88      B) 95      C) 92

5) Aşağıdakilerden hangisi 30'a yuvarlanamaz?

- A) 26      B) 33      C) 36

6) Ela'nın yaşı 1 düzine kadardır. Ela'nın yaşı hangi onluğa yakındır?

- A) 20      B) 10      C) 30

7) Ablam Zeynep, 15 yaşındadır. Buna göre ablamın yaşı hangi onluğa yakındır?

- A) 10      B) 20      C) 30

8) a) 87 → 90

b) 75 → 70

c) 41 → 40

d) 23 → 20

Yukarıdaki sayılar en yakın onluğa yuvarlanmıştır. Buna göre kaç tanesi doğrudur?

- A) 2      B) 3      C) 4

9) 

25 , 35 , 32 , 24 , 28 , 31 , 36 , 38
---------------------------------------

Yukarıdaki sayılardan kaç tanesi 30'a yuvarlanmaz?

- A) 6      B) 5      C) 4

10) Bir mağazadan 6 liraya silgi, 9 liraya da pantolon aldım. Buna göre kıyafetlerimin toplam fiyatı hangi onluğa daha yakındır?

- A) 10      B) 20      C) 30