

EŞ SESLİ (SESTEŞ) SÖZCÜKLER

Yazılışları ve okunuşları aynı anlamı farklı olan kelimelere eş sesli (sesteş) sözcükler denir.

Aşağıdaki cümlelerde verilen sesteş kelimelerin anlamlarını tahmin ederek. İlgili resmi işaretleyiniz.

S.No	CÜMLELER	RESİMLER
1.	Babam bahçeyi <u>kaz</u> dı.	 <input type="checkbox"/>  <input checked="" type="checkbox"/>
2.	Arkadaşım Kadir derste çok <u>gül</u> dü.	 <input type="checkbox"/>  <input type="checkbox"/>
3.	Ahmet denizde <u>yüz</u> dü.	 <input type="checkbox"/>  <input type="checkbox"/>
4.	Arabayla <u>dik</u> bir yokuş çıktık.	 <input type="checkbox"/>  <input type="checkbox"/>
5.	Topu bana <u>at</u> .	 <input type="checkbox"/>  <input type="checkbox"/>
6.	<u>Çay</u> kenarında piknik yaptık.	 <input type="checkbox"/>  <input type="checkbox"/>
7.	<u>Yağ</u> yağmur <u>yağ</u> .	 <input type="checkbox"/>  <input type="checkbox"/>
8.	Arda doğum gününde pasta <u>yedi</u> .	 <input type="checkbox"/>  <input type="checkbox"/>
9.	Ayakkabımın <u>bağ</u> ı çözüldü.	 <input type="checkbox"/>  <input type="checkbox"/>

S.No	CÜMLELER	RESİMLER	
10.	Konuştuğumuz dil Türkçe'dir.	 <input type="checkbox"/>	 <input type="checkbox"/>
11.	Şiddetli bir şekilde dolu yağdı.	 <input type="checkbox"/>	 <input type="checkbox"/>
12.	Bu yaz Antalya'ya gideceğiz.	 <input type="checkbox"/>	 <input type="checkbox"/>
13.	Annem sinirden saçlarını yoldu .	 <input type="checkbox"/>	 <input type="checkbox"/>
14.	Dedem alışverişte bin lira harcadı.	 <input type="checkbox"/>	 <input type="checkbox"/>
15.	Anneme hediye aldım .	 <input type="checkbox"/>	 <input type="checkbox"/>
16.	Çiftçi ineğin sütünü sağdı.	 <input type="checkbox"/>	 <input type="checkbox"/>
17.	Kurbanda saç kavurma yedik.	 <input type="checkbox"/>	 <input type="checkbox"/>
18.	Ahmet'i it kovaladı.	 <input type="checkbox"/>	 <input type="checkbox"/>
19.	Çiftçi tarlayı ekti .	 <input type="checkbox"/>	 <input type="checkbox"/>

HANGİ ONLUĞA DAHA YAKIN?

Sayıların hangi onluğa daha yakın olduğunu bulabilmek için sayının birler basamağına bakılır. Birler basamağında 1,2,3 ve 4 olan sayılar kendi onluğuna; birler basamağında 5,6,7,8 ve 9 olan sayılar bir sonraki onluğa yuvarlanır. İlk olarak size verilen sayının hangi onluklar arasında yer aldığını tespit ediniz. Kendi onluğuna gideni ve sonraki onluğa gidenleri farklı renklerle boyayınız.

10 11 12 13 14 15 16 17 18 19 20-

20 21 22 23 24 25 26 27 28 29 30-

30 31 32 33 34 35 36 37 38 39 40-

40 41 42 43 44 45 46 47 48 49 50-

50 51 52 53 54 55 56 57 58 59 60-

60 61 62 63 64 65 66 67 68 69 70-

70 71 72 73 74 75 76 77 78 79 80-

80 81 82 83 84 85 86 87 88 89 90-

90 91 92 93 94 95 96 97 98 99 100

Aşağıda verilen ortadaki sayıların hangi onluğa yuvarlandığını boyayarak gösteriniz.

80 82 90-

20 25 30-

40 45 50-

60 61 70-

50 54 60-

10 19 20-

70 74 80-

30 35 40-

90 94 100

80 86 90-

60 68 70-

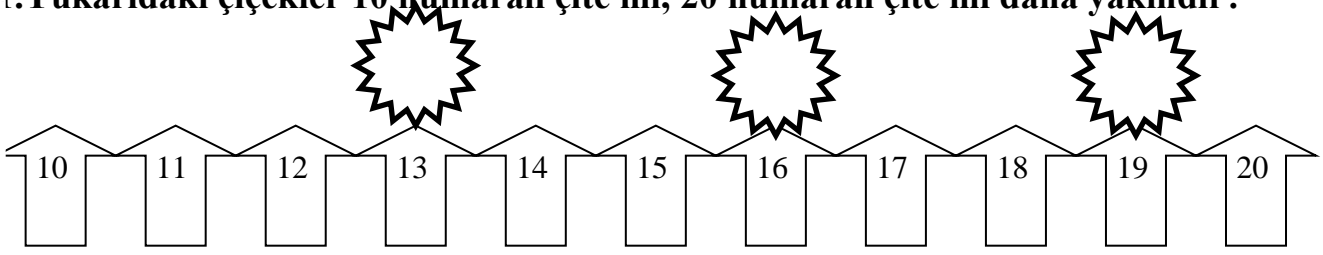
10 14 20-

20 22 30-

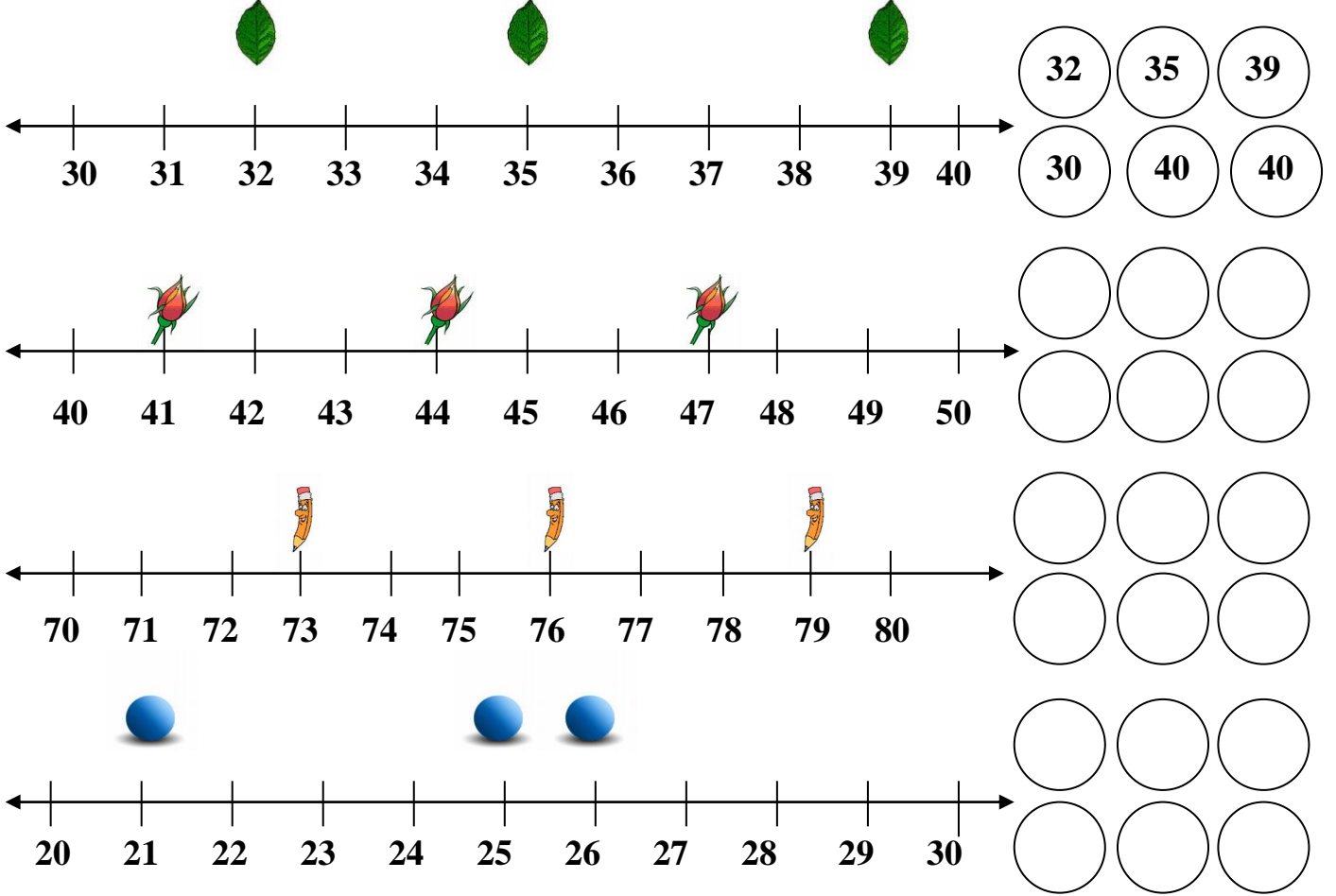
30 33 40-

50 57 60-

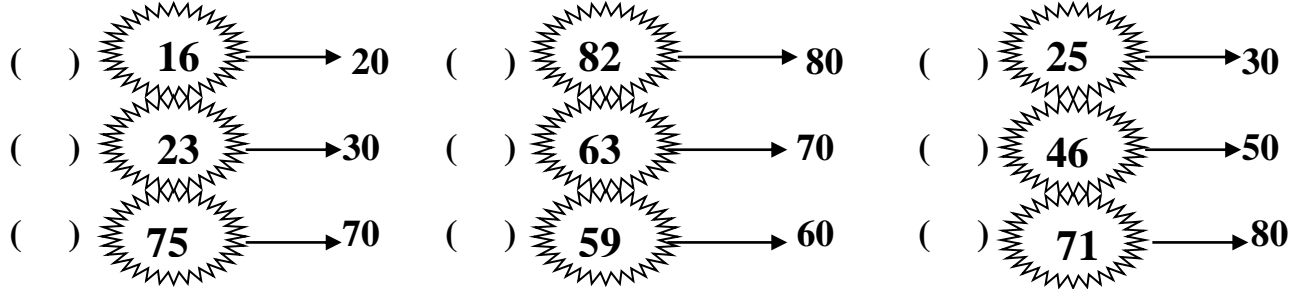
1. Yukarıdaki çiçekler 10 numaralı çite mi, 20 numaralı çite mi daha yakındır?



2. Aşağıdaki sayı doğrularını inceleyiniz. Şekiller hangi onluğa daha yakındır?



3. Aşağıdaki sayıların yakın olduğu onluklar karşlarına yazılmıştır. Doğru ve yanlış olanları belirleyiniz



4. Aşağıdaki sayıları en yakın onluğa yuvarlayınız.

