

SEBEP SONUÇ BELİRTEN CÜMLELER ETKİNLİĞİ

Yukarıda verilen sebep ve sonuçları örnekteki gibi eşleştirin.

Okula çok geç kaldığı için

1

dünyaya küsmüştü.

Arabanın tekeri patladığından

2

çok tuzsuz olmuştu.

Seni çok özlediğim için

3

gözleri bozuluyordu.

Arkadaşının kalbini kırdığından

4

1 öğretmeni ona çok kızdı.

Sevdiği kişiden ayrıldığı için

5

yola devam edemediler.

Sınava çok çalıştığı için

6

her gece ağlıyorum.

Yemeğe tuz koymayı unuttuğundan

7

bir ömür bekleyeceğim seni.

Televizyona yakından baktığından

8

bütün gece çok üşüdü.

Hava çok soğuk olduğundan

9

en yüksek notu o aldı.

Seni her şeyden çok sevdiğim için

1

onu bir türlü affetmiyordu.

NEDEN - SONUÇ CÜMLELERİ

Neden-sonuç ilişkisi "için, dolayı, yüzünden, ötürü, -çünkü" gibi sözcük yararlanarak oluşturulur

SEBEP

SONUÇ



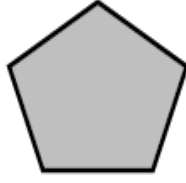
İşler bitmediği için
Dün gece ince giyindiğinden dolayı
Gecikmesinden ötürü
Yemeği beğendiği için
Yavaş yazman yüzünden
Çok çalıştığından ötürü
Otobüsü kaçırdığı için
Çiçeğe su vermediği için
Hasta olduğum için

Aşağıda verilen cümlelerden sebep sonuç cümlesi olanları işaretleyelim...


- () Babam çok sağlıklı bir adamdır.
- (X) Hastayı kalp yetmezliğinden dolayı kaybettik.
- () Önümüzdeki hafta tiyatroya gideceğim.
- () Sınavdan zayıf aldı çünkü çalışmamıştı.
- () Çocuklar sabahın erken saatlerinde okulu doldurdular.
- () Yorgun olduğu için işi erken bıraktı.
- () Fazla ışık gözlerime dokunduğundan ötürü perdeyi kapattım.
- () İşlerin sıkışıklığından dolayı ne tiyatroya gidebiliyorum ne sinemaya.
- () Babasından izin alabilmek için uğraşıyor.
- () Susuzluktan dolayı dudakları çatlamıştı.
- () Seni çok sevdiğimden dolayı böyle davranıyorum.
- () İstanbul'a bu yıl çok kar yağdı.

SİMETRİ

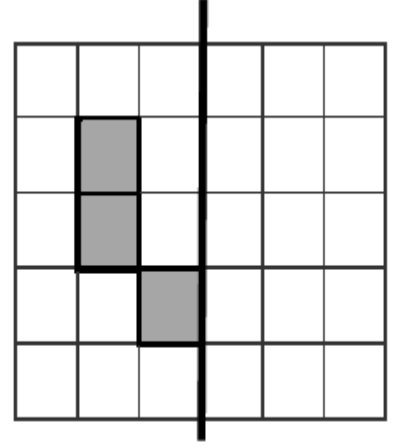
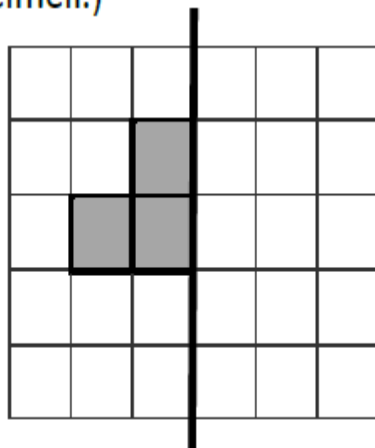
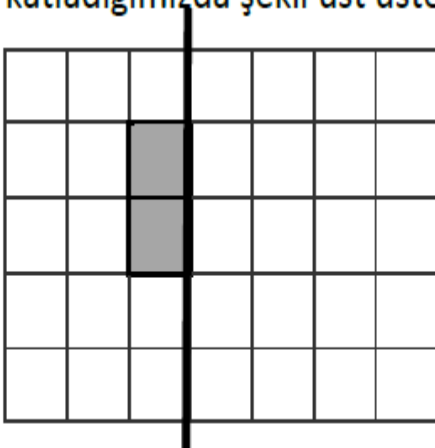
1 Aşağıdaki şekilleri iki eş parçaya ayırınız.



2 Aşağıdaki şekillerden simetrik olanları işaretleyiniz.



3 Aşağıdaki şekillerin simetriğini çizin. (Unutmayın şekli simetri doğrusundan katladığımızda şekil üst üste gelmeli.)



4 Aşağıdaki harflerden simetrisi olanları çizerek gösteriniz.

E R K A N

C U M Y D

B D T H

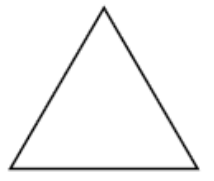
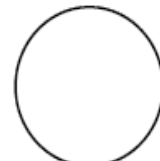
5 Aşağıdaki şekillerden hangisi simetrik değildir?



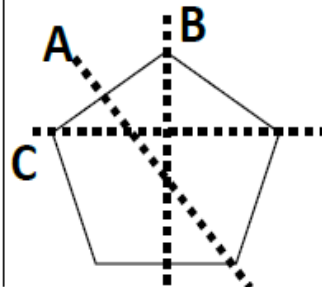
6 Aşağıdaki şekillerden hangisi simetriktir?



7 Hangi şekle daha fazla simetriği doğrusu çizilebilir?



8 Hangi çizgiyi çekersek şeklin simetriğini almış oluruz?



Cevap:.....